

**ИТОГОВЫЙ РЕЙТИНГ**  
 результатов обучающихся 4 классов, участников школьного этапа городской  
 олимпиады младших школьников и обучающихся 5-6 классов «Тулячок»  
 2024-2025 учебного года  
 по окружающему миру  
 (название предмета)

МБОУ «ЦО-гимназия № 30»

№ п/п	Фамилия, инициал имени участника	Класс (без <u>литеры</u> )	Количество баллов ( <u>округляем до целых чисел</u> )	Статус участника (победитель/ призёр/ участник ( <u>статус пишется с большой буквы</u> ))
1.	Чупятова С. А.	4	94	<b>Победитель</b>
2.	Синяев С.С	4	81	<b>Призёр</b>
3.	Фомина Д.И.	4	76	<b>Призёр</b>
4.	Свиридова О.Р.	4	76	<b>Призёр</b>
5.	Аверин А.К.	4	74	Участник
6.	Бугров Т.О.	4	71	Участник
7.	Федорина З. П.	4	66	Участник
8.	Часова К. И.	4	61	Участник
9.	Лимаренко А. А.	4	60	Участник
10.	Мохов М.М.	4	56	Участник
11.	Иванова Е. И.	4	46	Участник

Дата составления протокола: 05.02.2025

Председатель жюри: \_\_\_\_\_  
 подпись \_\_\_\_\_ расшифровка Зурка СВ

Подписи членов предметного жюри:

\_\_\_\_\_ расшифровка Дешетникова СВ  
 подпись \_\_\_\_\_ расшифровка

\_\_\_\_\_ расшифровка Савишова А.Н.  
 подпись \_\_\_\_\_ расшифровка

\_\_\_\_\_ расшифровка \_\_\_\_\_  
 подпись \_\_\_\_\_ расшифровка

\_\_\_\_\_ расшифровка \_\_\_\_\_  
 подпись \_\_\_\_\_ расшифровка





Городская олимпиада младших школьников и обучающихся 5-6-х классов «Тулячок»  
2024-2025 учебного года по окружающему миру  
Школьный этап  
4 класс

945.

ОО: ИЗОУЧУ-ШКОЛНИК № 2011

Время выполнения: 45 минут  
Количество баллов: 100

Шифр участника  
25131

ВПИШИ ОПРЕДЕЛЕНИЯ В ЗАДАНИЯХ 1-8

1. Какой океан омывает Евразию с севера?

Северный Ледовитый океан

25

2. На территории России граница между Европой и Азией проходит по

Уральским горам

25

3. Северные олени значительную часть года питаются ягелем. Это мох

00

4. Основным законом РФ это Конституция

25

5. Удивительное животное, житель Арктики, современник мамонта, доживший до наших дней? бивень

25

6. Уменьшенное изображение земной поверхности на плоскости с помощью условных знаков

Это карта

25

7. Третья по удаленности от Солнца планета.

Это Земля

25

8. У какой рыбы, широко распространенной вдоль всего побережья Евразии и во внутренних ее морях, оба глаза на правой стороне головы?

У камбала

25

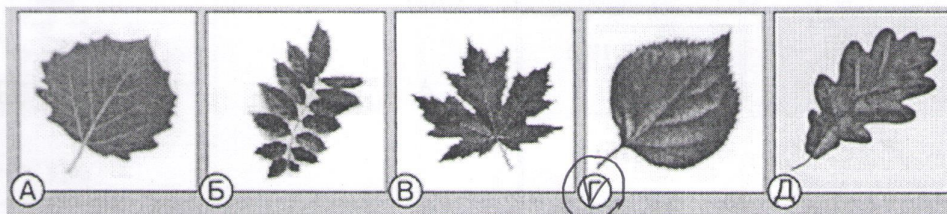
9. У Агни Барто есть строки

Мы в своей тетрадке с ней  
Нарисуем все листы

И не скажем об осине:  
«Ах, береза, это ты!»

На каком рисунке изображен лист березы?

25





10. Подчеркни лишнее слово в каждом ряду. Объясни свой выбор.

1. Озеро, пруд, тундра, река, болото.

Тундра - природная зона, остальные - водоемы. 38

2. Байкал, Лена, Амур, Ока, Нева, Дон.

Байкал - озеро, остальные - реки. 38

3. Тихий, Атлантический, Евразия, Северный Ледовитый, Индийский.

Евразия - материк, остальные - океаны. 38

11. Какая из перечисленных пород является известняком?

а) мрамор б) уголь в) гранит

12. Напиши цвета флага Российской Федерации, и поясни, что означает каждый цвет

1. белый - отбелка, чистота. 38+38

2. синий - цвет неба +

3. красный - кровь, любовь, храбрость +

13. На пути водного потока Волги отсутствуют...

а) тундра б) смешанные леса в) лесостепи г) степи д) полупустыни 28

14. О какой природной зоне идёт речь в данном отрывке:

«Здесь произрастают удивительные растения: карликовая берёза, ягель, которым с удовольствием питаются коренные жители этих мест — олени. А люди в этих местах ведут кочевой образ жизни, и живут они в особенных домах-ярангах, покрытых шкурами оленей».

о Тундре 48

15. В таблице приведены данные о погоде в четырёх разных городах.

Город	Температура	Облачность
А	5 °С	Облачно
В	-5 °С	Ясно
С	-5 °С	Облачно
Д	5 °С	Ясно

В каком городе, скорее всего, идёт снег? 48

А


С

В

Д



16. Герб какого города представлен на рисунке? Что изображено на гербе?



*через Москву. Изображены два молотка и клин.*

17. Дата запуска первого искусственного спутника Земли.

- 1) 12 апреля 1961 года
- 2) 1 июня 1960 года
- 3) 4 октября 1957 года

18. Установи соответствие и соедини стрелками правильные ответы

Слив сточных вод заводами и фабриками	<del>Загрязнение воздуха</del>
Выброс дыма предприятиями	Уменьшение количества лесов на Земле
Неумеренная охота на диких зверей и птиц	<del>Загрязнение водоёмов</del>
Заготовка древесины	Исчезновение некоторых видов животных

19. Дополни предложения. В них говорится о свойствах воды.

Вода не имеет запаха, вкуса и цвета. Если воду нагреть до кипения, то она превратится в пар. Если её охладить до нуля градусов, то вода превратится в лёд. Вода хорошо растворяет соль и сахар, но не растворяет песок и глину. Без воды не может прожить ни одно живое существо на планете Земля.

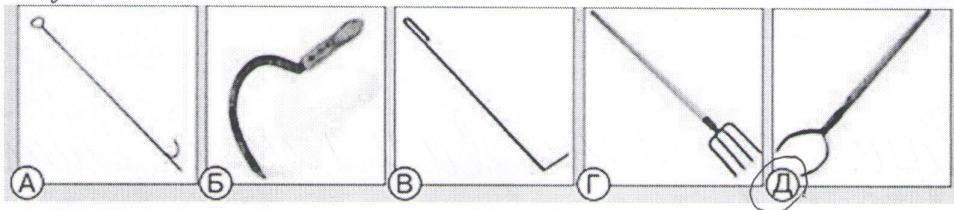
20. Где произрастают эти растения?

1.Просо	а) луг
2.Тимофеевка	
3.Рогоз	б) поле
4.Ряска	
5.Ячмень	в) водоем
6.Кукуруза	

1	2	3	4	5	6
<i>б</i>	<i>а</i>	<i>в</i>	<i>в</i>	<i>б</i>	<i>б</i>
<i>+</i>	<i>+</i>	<i>+</i>	<i>+</i>	<i>+</i>	<i>+</i>

21. На каком рисунке изображен инструмент важный для приготовления в русской печи? Запиши название этого инструмента.

ухват



35.

22. Расположи исторические события в хронологическом порядке (расставь впереди цифры от 1 до 6)

- + 3 Основание Санкт-Петербурга
- + 1 Крещение Руси
- + 6 Первый полет человека в космос
- + 4 Бородинская битва
- + 5 Великая Отечественная война
- + 2 Куликовская битва

65.

23. Вопросы по ПДД

1. Какой знак обязательно устанавливают около детских учреждений?

осторожно, дети!

2. Запрещающие знаки имеют форму и цвет

форма - круг, цвет - красный

3. С какого возраста разрешается управлять велосипедом при движении по дорогам? с 14 лет

35.

24. Дерево и лев очень не похожи друг на друга. Но они относятся к живой природе и имеют общие особенности. Например, чтобы выжить, им обоим нужна вода.



Запиши две другие особенности, которые имеют и дерево, и лев.

Ответ: растут, раздвигаются, размножаются,  
умирают, умирают, дышат, питаются.

45