

**ПРЕДВАРИТЕЛЬНЫЙ РЕЙТИНГ**  
 результатов обучающихся 3 классов, участников школьного этапа городской  
 олимпиады младших школьников и обучающихся 5-6 классов «Тулячок»  
 2023-2024 учебного года  
 окружающий мир  
 (название предмета)

МБОУ «ЦО-гимназия № 30»

№ п/п	Фамилия, инициал имени участника	Класс (без <u>литеры</u> )	Количество баллов ( <u>округляем до целых чисел</u> )	Статус участника (победитель/призёр/участ ник) ( <u>статус пишется с большой буквы</u> )
1.	Чупятова С. А.	3	88	<b>Победитель</b>
2.	Аверин А.К.	3	84	<b>Призёр</b>
3.	Свиридова О.Р.	3	83	<b>Призёр</b>
4.	Мохов М.М.	3	81	<b>Призёр</b>
5.	Занегина М.В.	3	80	
6.	Гаврилова Е.М.	3	80	
7.	Лимаренко А. А.	3	75	
8.	Елистратова Е. В.	3	74	
9.	Трофимова В. Д.	3	74	
10.	Синяев С.С.	3	71	
11.	Часова К. И.	3	70	
12.	Федорина З. П.	3	68	
13.	Фомина Д.И.	3	65	
14.	Авдеев И. А.	3	59	
15.	Мухина В. С.	3	52	
16.	Иванова Е. И.	3	49	
17.	Кулькова А.М.	3	49	
18.	Гуркова А. В.	3	38	

Дата составления протокола: февраля 2024г.

Председатель жюри: \_\_\_\_\_

подпись

*Гуркова А.В.*

расшифровка

Подписи членов предметного жюри:

подпись

*Исметникова М.Н.*

расшифровка

подпись

*Савишова А.Н.*

расшифровка

подпись

расшифровка

подпись

расшифровка



Городская олимпиада младших школьников и  
обучающихся 5-6-х классов «Тулячок»  
2023-2024 учебного года  
по окружающему миру  
школьный этап  
3 класс

Время выполнения: 45 минут  
Количество баллов: 100

Шифр участника  
24091

Задание 1. Ближущици. Ответьте на вопросы, запишите ответ.

- 1) Самый короткий месяц в году? февраль + 105
- 2) Какой месяц следует после мая? июнь +
- 3) Самая близкая к нашей планете звезда? Солнце +
- 4) Сколько ног у насекомых? 6
- 5) Как называется столица нашей Родины? Москва +
- 6) К какой группе деревьев относятся сосна, кедр, ель? хвойные +
- 7) Книга, в которую занесены исчезающие виды растений и животных?  
Красная книга +
- 8) По какому номеру вызывают пожарную службу? 101 +
- 9) Если ты стоишь лицом к северу, то за спиной у тебя юг +
- 10) Прибор для измерения температуры – это термометр +

Задание 2. Найдите 6 названий птиц. Зачеркните лишние буквы. Запишите названия птиц. 65

П Р В О Р О Н А Ч А К В А И С Т М А Щ Е Г О Л В Ы Ц М А Л И Н О В К А Ф И Г Е Т Д Я Т Е Л С Ж Е Д Г О Л У Б Ъ З И Н Ц И А

Ответ: ворона, аист, щегол, малиновка, дятел, голубь

Задание 3.

На Руси это дерево использовали для изготовления лаптей? 15

Ответ: липа

Задание 4.

Какие почвенные организмы помогают плодородию почвы? 0

Ответ: ~~переломой, нитеромыше, нитеромыше саит~~

Задание 5. Подчеркните правильные ответы.

Что является государственными символами?

гимн памятники реки герб столица флаг леса 35

Задание 6. Подчеркните объекты природы. 45

Озеро, кружка, велосипед, облако, кирпич, родник, автобус, книга, бабочка.

**Задание 7. Выберите правильное определение, обведите букву правильного ответа.**

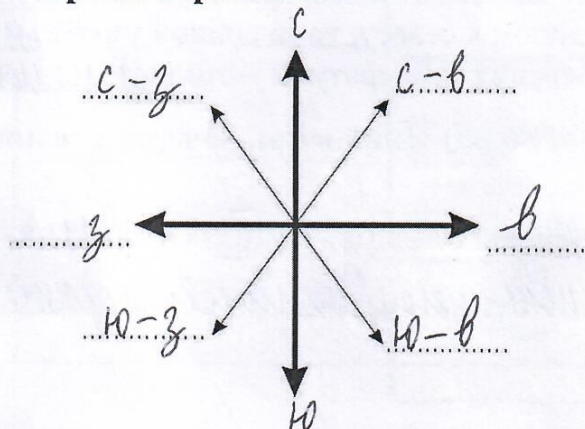
Полезные ископаемые – это ...

- а) все минералы и горные породы, из которых состоит Земля.
- б) природные богатства, которые люди добывают из глубин земли или с её поверхности и используют в народном хозяйстве.
- в) полезные вещества, которые получают из горных пород и минералов.

**Задание 8. Узнайте природное явление по его описанию. Запишите ответ.**

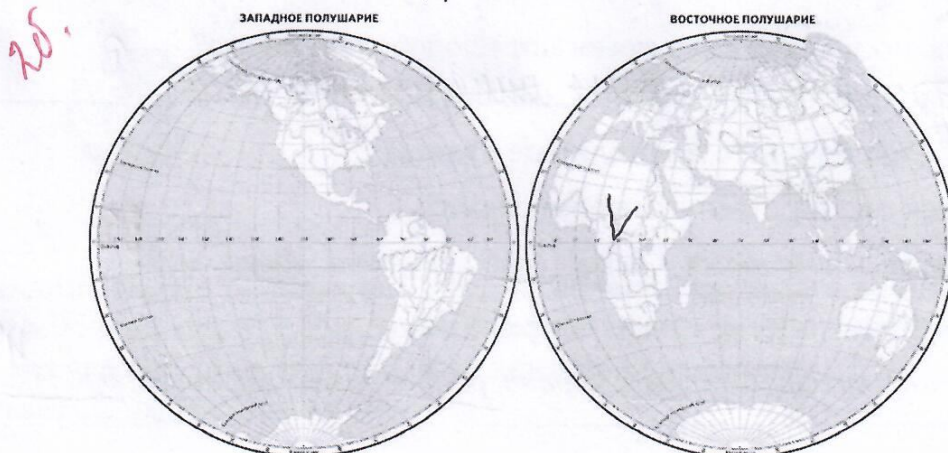
Природное явление	Ответ
1. Капельки воды, которые покрывают растения и поверхности в ранние часы в тёплое время года.	роса
2. Электрический разряд в небе, сопровождающийся громким звуком.	молния
3. Маленькие льдинки, которыми иногда сопровождается летний дождь.	град
4. Снегопад с сильным ветром.	метель

**Задание 9. Укажите стороны горизонта.**

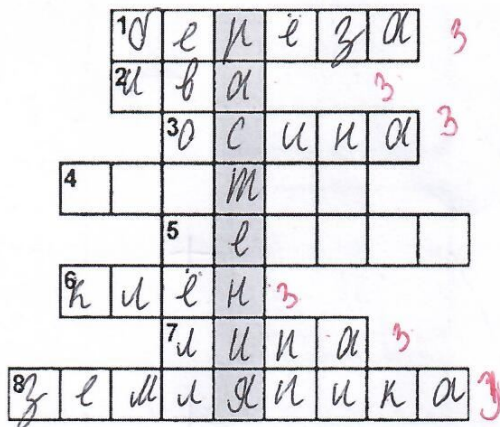


**Задание 10. Укажите на карте знаком ✓ материк с самым жарким климатом.**

Как он называется? Ответ: Африка



**Задание 11. Разгадайте кроссворд.**

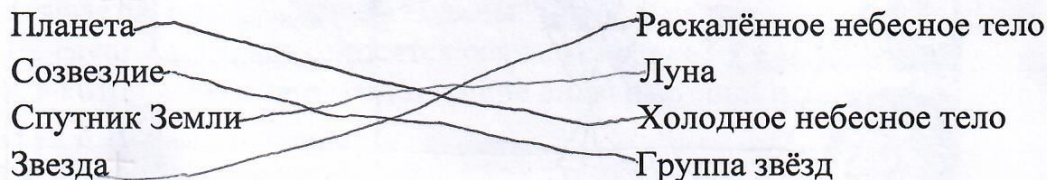


1. Лиственное дерево с белой корой.
2. Дерево, которое плачет.
3. Из этого дерева делают спички.
4. У него вместо листьев колочки.
5. Комнатное растение, которое отпугивает своим запахом моль.
6. Он считается символом Канады.
7. Лиственное дерево-медонос.
8. Лесная ягода.

Какое слово получилось по вертикали?

Ответ: растения

**Задание 12. Соедините линией значения слов.**



**Задание 13. Составьте 3 цепи питания, используйте слова для выбора:**

- орехи, кабан, короед, кора дерева, дятел, белка, жёлуди, ястреб, волк
1. Кора дерева - короед - дятел. 2
  2. Жёлуди - белка - ястреб. +
  3. Орехи - кабан - волк. +
- Handwritten red '55' is next to the chains.

**Задание 14. Какой орган не является органом пищеварения? Зачеркните его.**

пищевод    желудок    ~~лёгкие~~    кишечник    язык    зубы

Handwritten red '75' is next to the text.

**Задание 15. Найдите причину.**

**Вырубили старые дуплистые деревья – погиб лес.**

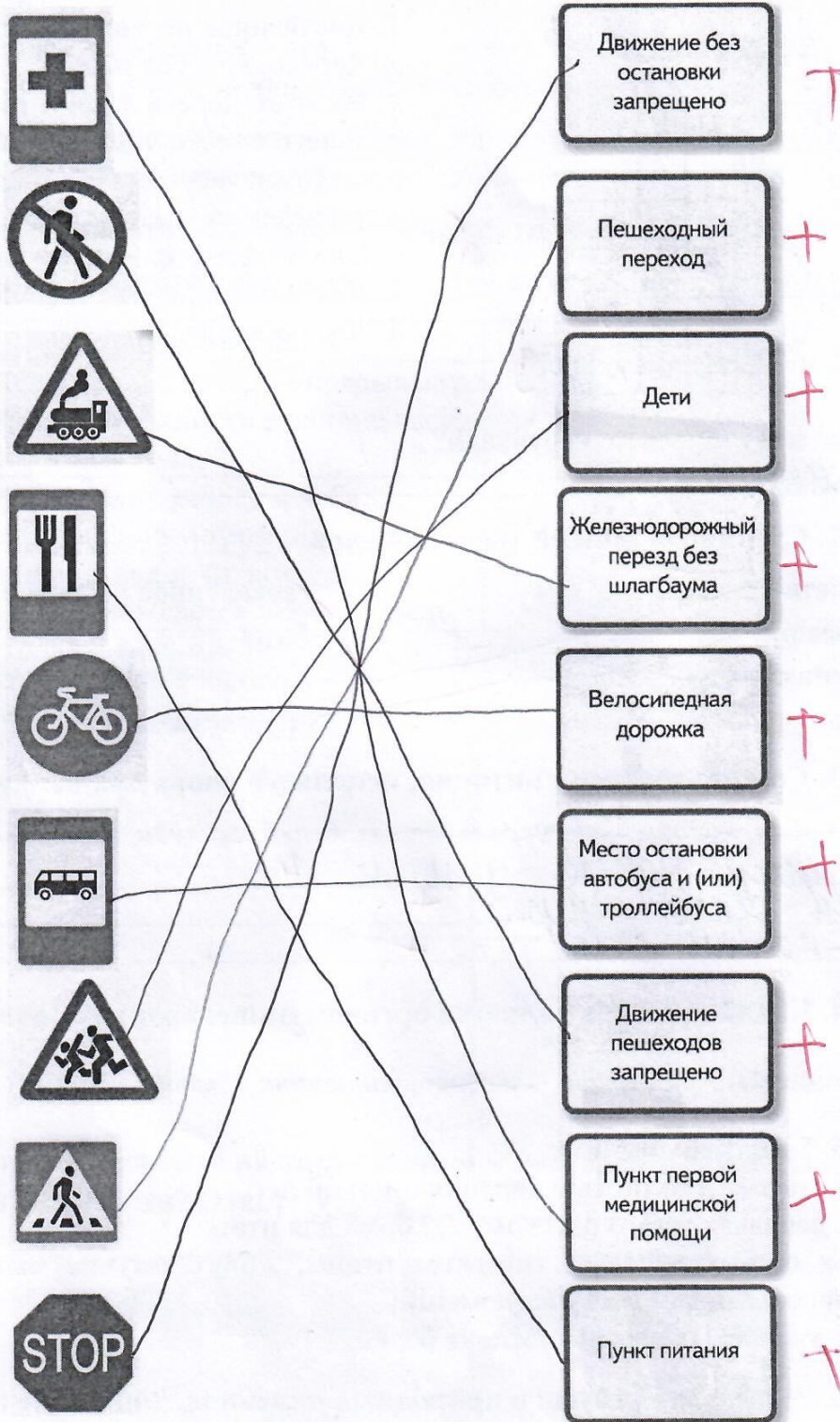
- а) в старых деревьях много насекомых: корма для птиц;
  - б) в дуплах старых деревьев гнездятся птицы, живут летучие мыши, которые питаются опасными для леса насекомыми;
  - в) в старых дуплистых деревьях живут белки.
- Handwritten red '0' is next to the text.

**Задание 16. Разгадайте ребусы о природных явлениях. Запишите ответ.**



- 1) \_\_\_\_\_
  - 2) туман +
  - 3) испуг +
  - 4) ветер +
- Handwritten red '60' is next to the rebuses.

**Задание 17. Найдите название для каждого знака. Соедините линией.**



**Задание 18.** На территории Тульской области произошла важная для истории нашей Родины битва. Русское войско под предводительством Дмитрия Донского одержало победу. Как называется это историческое место?

5  
 Ответ: Куликово поле